



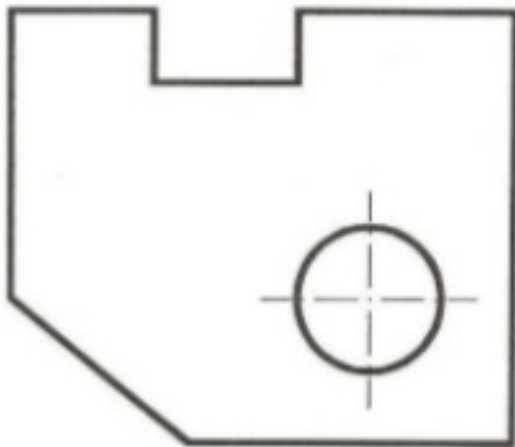
Departament:	Fabricació mecànica	1ª Avaluació	Grup: 1Sold.
Matèria: M1 Interpretació i representació gràfica	Data:	Temps:	
Alumne:		Nota:	

UF1 - Interpretació gràfica

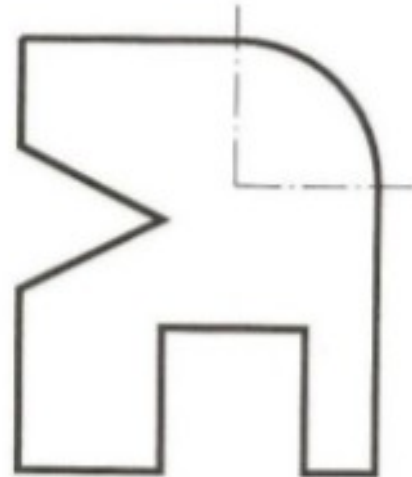
Exercicis E5

1 – Dibuixa en l'escala adient i en un caixetí cadascuna de les següents figures, després acota-les seguint les normes d'acotació.

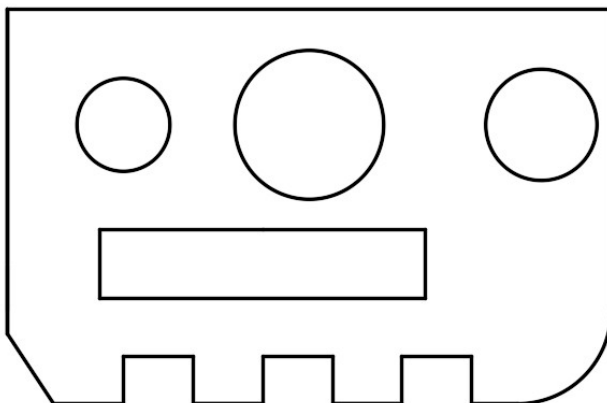
E5.1



E5.2



E5.3



E5.4

